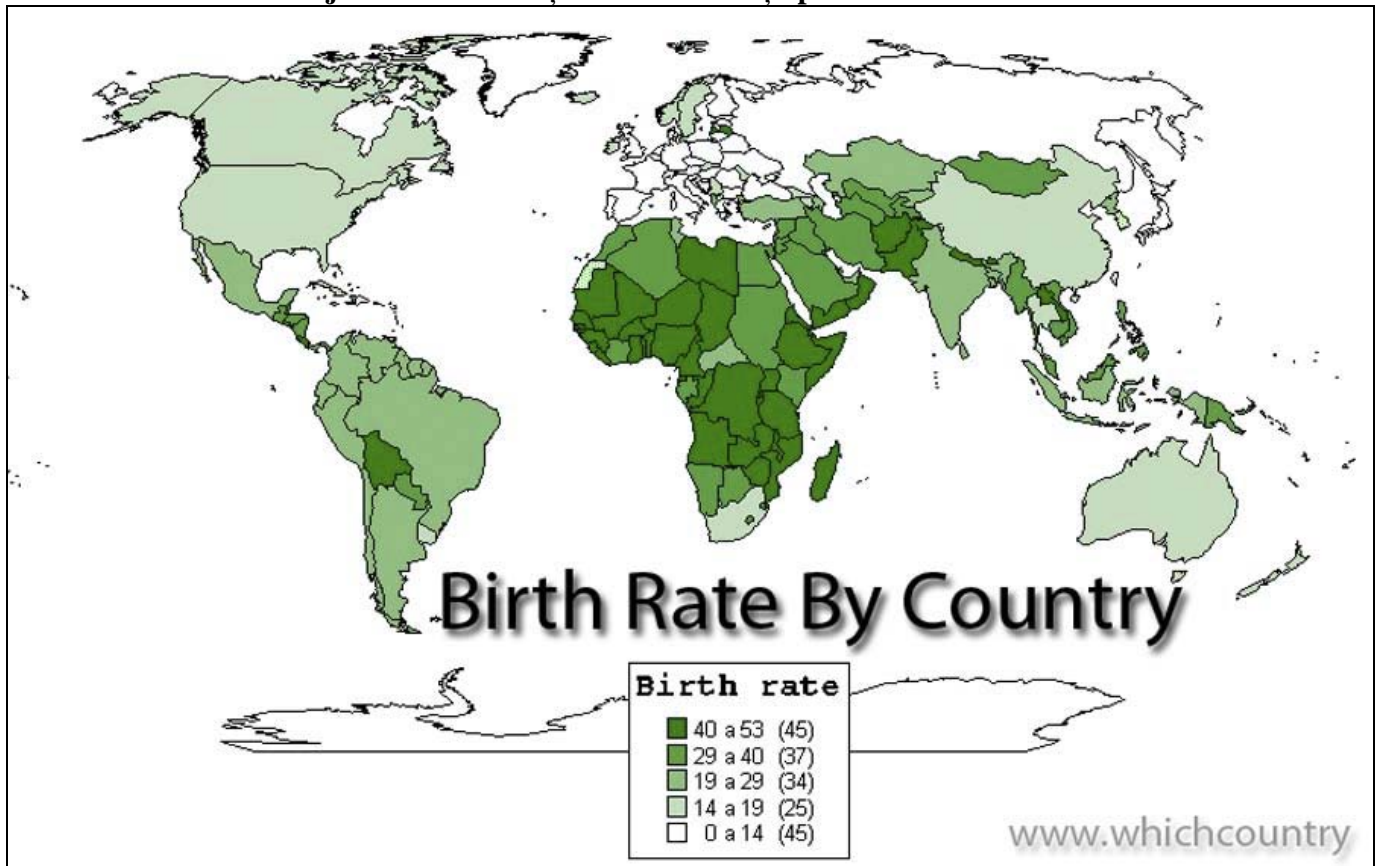


Fișă de lucru – Bilanțul natural al populației

A. Harta de mai jos redă distribuția ratei natalității pe Glob în anul 2015.



Harta ratei natalității pe Glob – sursă: <http://howafrica.com/20512-2/>

1. Completați tabelul următor cu datele corecte și cu ajutorul atlasului geografic!

Rata natalității	Trei țări din emisfera nordică	Trei țări din emisfera sudică
40-53 ‰		
	Algeria, Maroc, Iran	
19-29 ‰		
		Australia, Africa de Sud, Uruguay
0-14 ‰		Nu există

2. Menționați trei cauze ale natalității ridicate din Africa!

- Cauza 1.....
- Cauza 2
- Cauza 3.....

3. Precizați patru cauze ale natalității scăzute din Europa!

- Cauza 1.....
- Cauza 2
- Cauza 3.....
- Cauza 4.....

B. Tabelele de mai jos reprezintă top 10 cele mai polulate țări în 2015 și 2050.

Tabel nr. 1 – Top 10 cele mai populate țări în 2015

Tabel nr. 2 – Top 10 cele mai populate țări în 2050

Țară	Populație (mil.loc)
China	1364
India	1296
S.U.A	318
Indonezia	251
Brazilia	203
Pakistan	194
Nigeria	177
Bangladesh	158
Rusia	144
Japonia	127

Țară	Populație (mil.loc)
India	1657
China	1312
Nigeria	396
S.U.A	395
Indonesia	365
Pakistan	348
Brazilia	226
Bangladesh	202
R. D..Congo	194
Etiopia	165

Sursă : date preluate de la Population Reference Bureau (<http://www.prb.org/>)

1. Precizați cele două țări care vor ieși din primele cele mai populate zece țări în anul 2050!

a. Țara.....

b. Țara.....

2. Calculați cu câți locuitori vor crește India, Indonezia și Pakistan, în 2050 față de 2015!

a. India -

b. Indonezia -

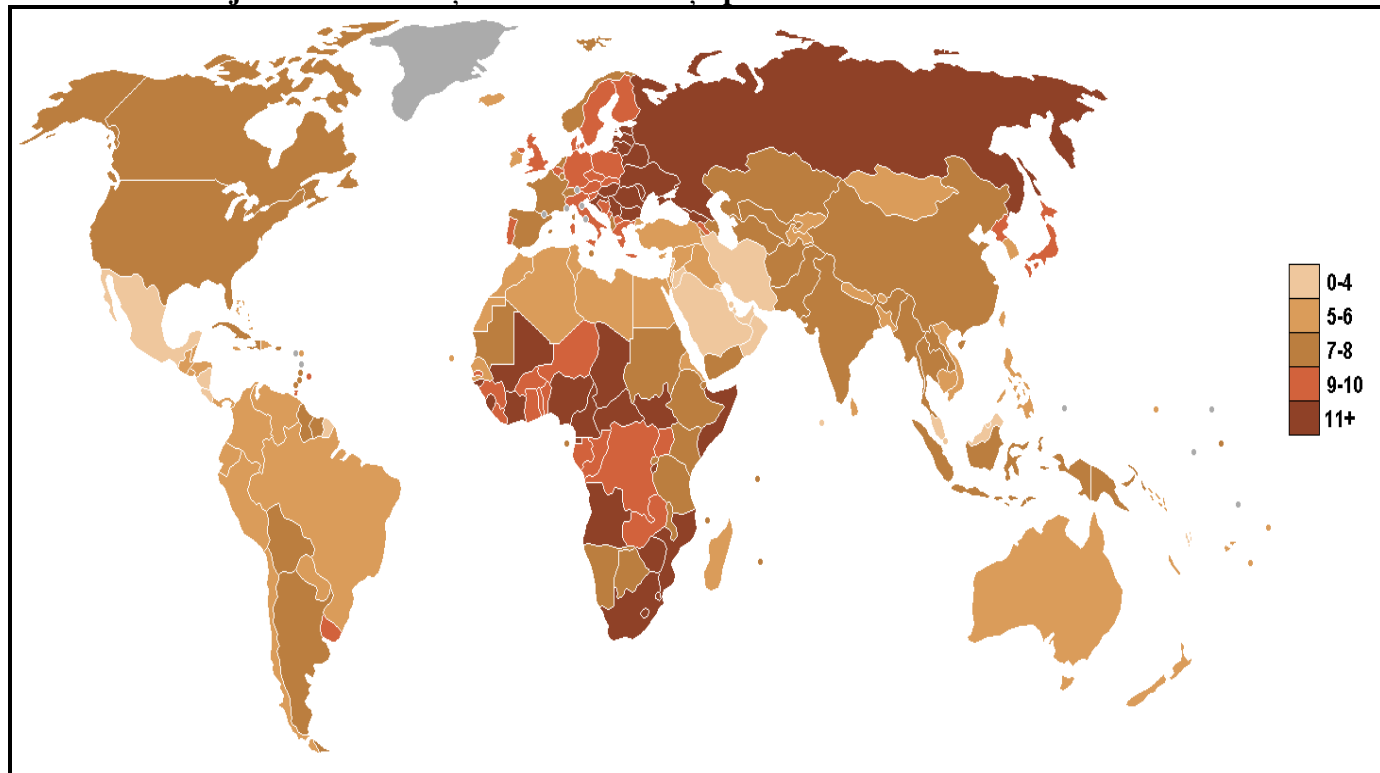
c. Pakistan -

3. Menționați cele două state care vor intra în top 10 în anul 2050!

a. Statul.....

b. Statul.....

C. Harta de mai jos redă distribuția ratei mortalității pe Glob în anul 2015.



Harta mortalității pe Glob (sursa-https://en.wikipedia.org/wiki/Mortality_rate)

1. Completați tabelul următor cu datele corecte, cu ajutorul atlasului geografic!

Rata mortalității	Trei țări din emisfera nordică	Trei țări din emisfera sudică
Peste 11 ‰		
7- 8 ‰	Suedia, Finlanda, Germania	
0 - 4 ‰		Australia, Brazilia, Chile
		Nu există

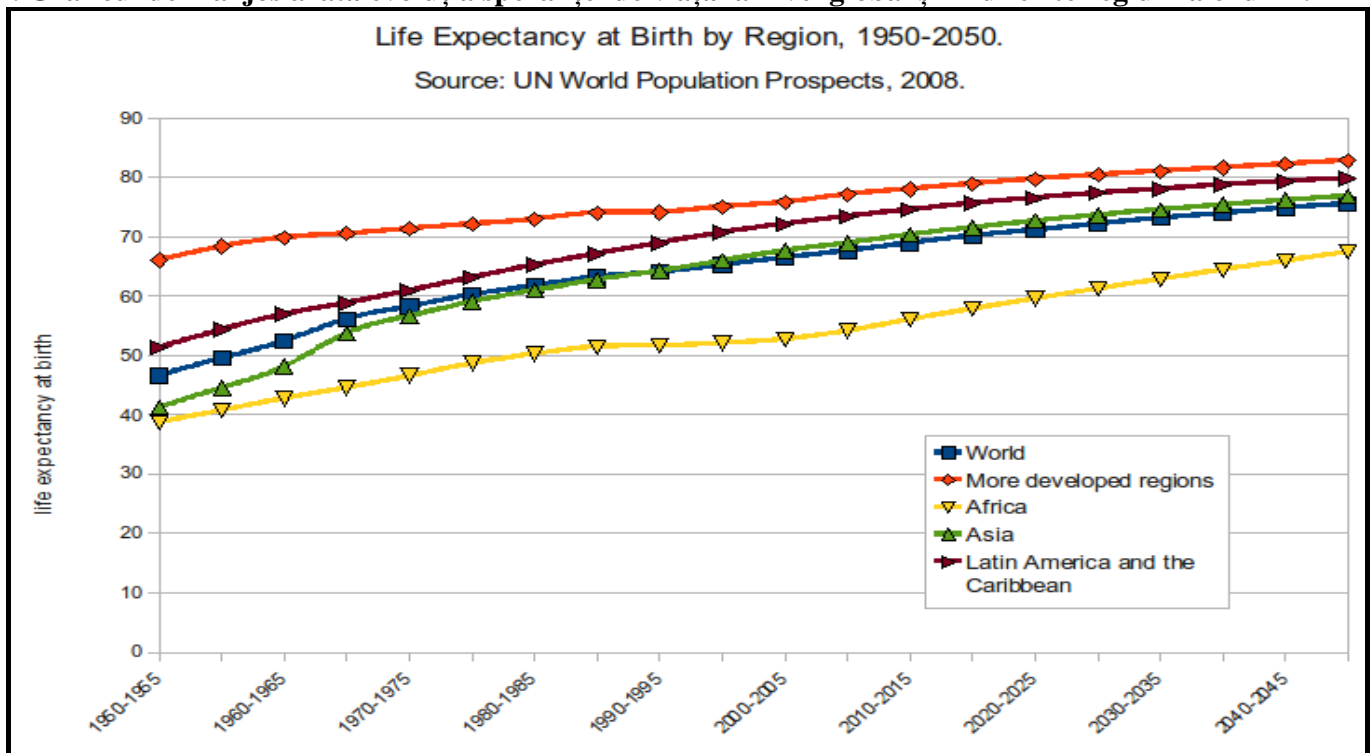
2. Menționați trei cauze ale mortalității ridicate din Africa!

- a. Cauza 1.....
- b. Cauza 2
- c. Cauza 3.....

3. Precizați patru cauze ale mortalității scăzute din Europa!

- a. Cauza 1.....
- b. Cauza 2
- c. Cauza 3.....
- d. Cauza 4.....

D. Graficul de mai jos arată evoluția speranței de viață la nivel global și în diferite regiuni ale lumii.



1. Menționați continentul care a avut cea mai mare creștere a speranței de viață!

Continentul

2. Scrieți două argumente care să explice această creștere rapidă a speranței de viață la nivel global!

Argument 1.....

Argument 2.....

E. Tabelele de mai jos reprezintă primele și ultimele zece țări ca speranță de viață la nivel global.

Tabelul nr. 3 – Top 10 speranță de viață - 2014

1	 Japonia	84.6
2	 Andorra	84.2
3	 Singapore	84
4	 Hong Kong (R.P.C.)	83.8
5	 San Marino	83.5
6	 Islanda	83.3
7	 Italia	83.1
8	 Suedia	83
9	 Australia	83
10	 Elveția	82.8
101	 România	74

Sursa: wikipedia

Tabelul nr. 4 – Top 10 ultimele 10 țări ca speranță de viață - 2014

184	 Angola	52
185	 Ciad	51
186	 Mali	51
187	 Lesotho	51
188	 Guinea Bissau	50
189	 Swaziland	50
190	 Somalia	50
191	 R.D. Congo	49.5
192	 Republica Central Africană	48.5
193	 Sierra Leone	47.5

Sursa: wikipedia

1. Menționați cinci argumente pentru discrepanțele observate.

- Argument 1.....
- Argument 2.....
- Argument 3.....
- Argument 4.....
- Argument 5.....

2. Calculați diferența de ani dintre Japonia și Sierra Leone și precizați două oportunități prin care speranța de viață din țara africană ar putea crește!

- Diferență
- Oportunitate 1.....
- Oportunitate 2